

I- IDENTIFICACIÓN DE LA PRESENTACIÓN N° 009 /2022

ASIGNATURA	MATEMÁTICAS
PROFESOR	HEYDY MORALES
CURSO	1° BÁSICO
SEMESTRE	PRIMERO



II- GESTIÓN CURRICULAR

OBJETIVO	ASOCIAR NÚMERO Y CANTIDAD		
CONTENIDO	NÚMEROS 1 HASTA 10		
NÚMERO DE CLASE	009 - 2022	FECHA	VIERNES 18/03/2022
ACTIVIDAD PRÁCTICA	TOMO 1 ASTORECA MATEMÁTICA		
MATERIAL	CUADERNO - LÁPIZ - COLORES - OBJETOS VARIOS		



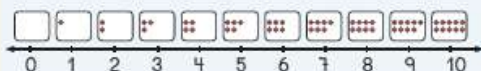
**PRACTICAMOS
LOS NÚMEROS**



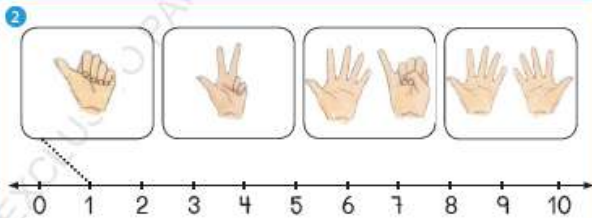
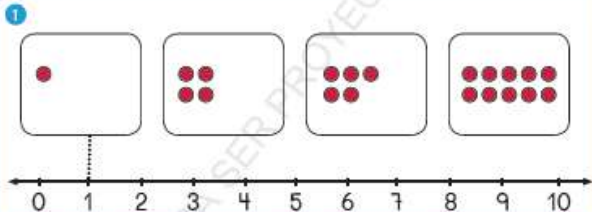
Identificar cantidades en la recta numérica

Esta es una recta numérica del 0 al 10. Los números están ordenados de menor a mayor.

La distancia entre dos números seguidos es siempre igual.



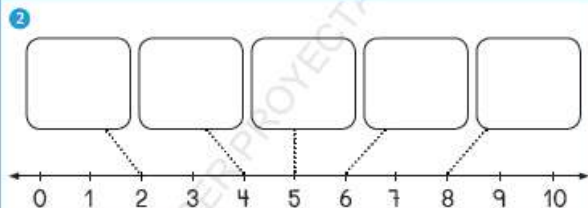
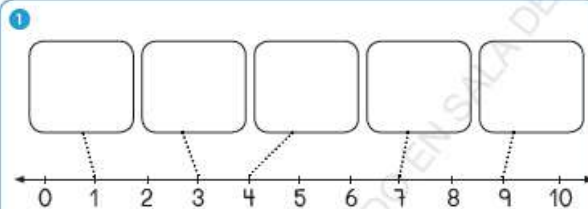
Una con una línea cada recuadro con el número correspondiente en la recta numérica.



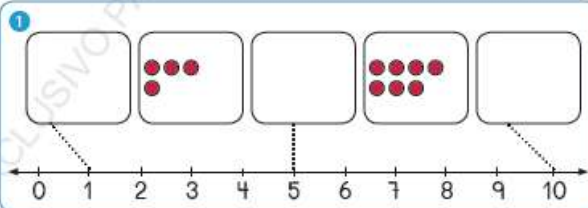
TOMO 1 ASTORECA MATEMÁTICA PÁGINA 34 – 35

Identificar cantidades en la recta numérica

Dibuje la cantidad de ● correspondiente al número de la recta numérica.

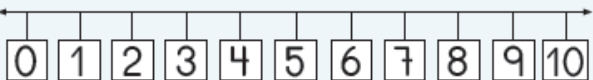


Complete los recuadros con ●. Únalos con su correspondiente número en la recta.

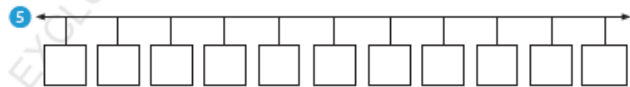
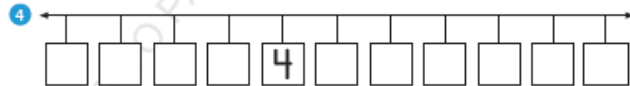


Completar secuencias hasta el 10

Recta numérica desde el 0 hasta el 10.



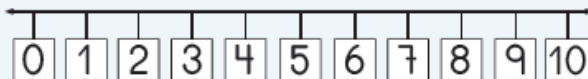
Escriba los números que faltan.



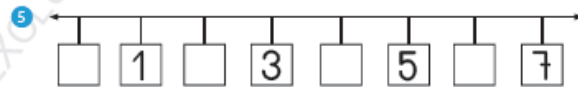
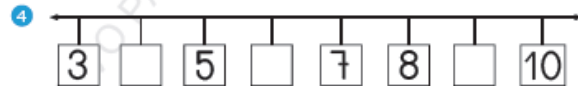
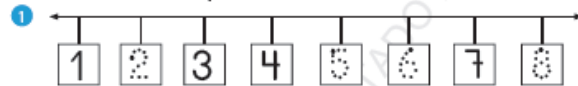
**TOMO 1
ASTORECA
MATEMÁTICA
PÁGINA 36 – 37**

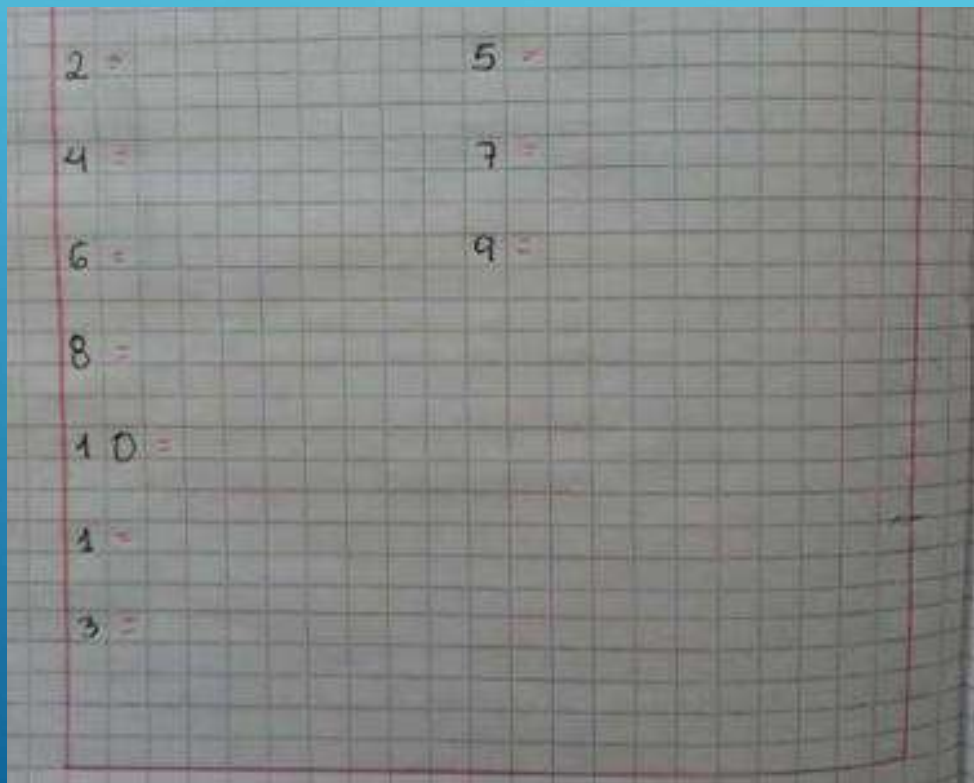
Completar secuencias hasta el 10

Recta numérica desde el 0 hasta el 10.



Escriba los números que faltan.





**RECORTAMOS DE
DIARIOS, REVISTAS O
LIBROS VIEJOS, LOS
SIGUIENTES NÚMEROS, Y
OBJETOS QUE
REPRESENTEN SUS
CANTIDADES**



**¿ QUÉ HEMOS
APRENDIDO HOY?**

